

Szöveges feladatok

- 1) Anna és Zsuzsi is szeretné megvenni az újságosnál az egyik magazint, de egyik lánynak sincs elegendő pénze. Anna pénzéből hiányzik a magazin árának 12 %-a, Zsuzsi pénzéből pedig az ár egyötöde. Ezért elhatározzák, hogy közösen veszik meg a magazint. A vásárlás után összesen 714 Ft-juk maradt.
- Mennyibe került a magazin, és mennyi pénzük volt a lányoknak külön-külön a vásárlás előtt? (10 pont)
 - A maradék 714 Ft-ot igazságosan akarják elosztani, azaz úgy, hogy a vásárlás előtti és utáni pénzük aránya azonos legyen. Hány forintja maradt Annának, illetve Zsuzsinak az osztzkodás után? (7 pont)
- 2) 2001-ben a havi villanyszámla egy háztartás esetében három részből állt. az alapidj 240 Ft, ez független a fogyasztástól, a nappali áram díja 1 kWh fogyasztás esetén 19,8 Ft, az éjszakai áram díja 1 kWh fogyasztás esetén 10,2 Ft. A számla teljes értékének 12 %-át kell még általános forgalmi adóként (ÁFA) kifizetnie a fogyasztónak.
- Mennyit fizetett forintra kerekítve egy család abban a hónapban, amikor a nappali fogyasztása 39 kWh, az éjszakai fogyasztása 24 kWh volt? (3 pont)
 - Adjon képletet a befizetendő számla F összegére, ha a nappali fogyasztás x kWh, és az éjszakai fogyasztás pedig y kWh! (3 pont)
 - Mennyi volt a család fogyasztása a nappali illetve és az éjszakai áramból abban a hónapban, amikor 5456 Ft-ot fizettek, és tudjuk, hogy a nappali fogyasztásuk kétszer akkora volt, mint az éjszakai? (8 pont)
 - Mekkora volt a nappali és az éjszakai fogyasztás aránya abban a hónapban, amikor a kétféle fogyasztásért (alapidj és ÁFA nélkül) ugyanannyit kellett fizetni? (3 pont)
- 3) Egy farmernadrág árát 20 %-kal felemelték, majd amikor nem volt elég nagy a forgalom, az utóbbi árat 25 %-kal csökkentették. Most 3600 Ft-ért lehet a farmert megvenni. Mennyi volt az eredeti ára? Válaszát számítással indokolja! (4 pont)
- 4) Péter lekötött egy bankban 150 000 forintot egy évre, évi 4%-os kamatra. Mennyi pénzt vehet fel egy év elteltével, ha év közben nem változtatott a lekötésen? (2 pont)
- 5) Az erdőgazdaságban háromféle fát nevelnek (fenyő, tölgy, platán) három téglalap elrendezésű parcellában. A tölgyfák parcellájában 4-gyel kevesebb sor van, mint a fenyőfákéban, és minden sorban 5-tel kevesebb fa van, mint ahány fa a fenyő parcella egy sorában áll. 360-nal kevesebb tölgyfa van, mint fenyőfa. A platánok telepítésekor a fenyőkéhez viszonyítva a sorok számát 3-mal, az egy sorban lévő fák számát 2-vel növelték. Így 228-cal több platánfát telepítettek, mint fenyőt.
- Hány sor van a fenyők parcellájában? Hány fenyőfa van egy sorban? (10 pont)
 - Hány platánfát telepítettek? (2 pont)
- 6) Bea édesapja két és félszer olyan idős most, mint Bea. 5 év múlva az édesapa 50 éves lesz. Hány éves most Bea? Válaszát indokolja! (3 pont)

- 7) Egy televíziós vetélkedőn 20 játékos vesz részt. A műsorvezető kérdésére a lehetséges három válasz közül kell a játékosoknak az egyetlen helyes megoldást kiválasztani, melyet az A, a B vagy a C gomb megnyomásával jelezhetnek. A vetélkedő három fordulóból áll, minden fordulóban négy kérdésre kell válaszolni. Amelyik versenyző hibásan válaszol, 0 pontot kap. A helyes válaszért annyi pont jár, ahány helytelen válasz született (pl.: ha Péter jól válaszol és 12-en hibáznak, akkor Péter 12 pontot szerez).
- a) Töltse ki az első forduló táblázatának hiányzó adatait! (4 pont)

Első forduló eredményei	1. kérdés	2. kérdés	3. kérdés	4. kérdés
Anikó válasza	helyes	hibás	helyes	
Jó válaszok száma	7	10		8
Anikó elért pontszáma			5	0

- b) Hány százalékkal növekedett volna Anikó összpontszáma az első fordulóban, ha a második kérdésre is jól válaszolt volna? (A többi játékos válaszát változatlanoknak képzeljük.) (3 pont)
- c) Ha Anikó valamelyik másik fordulóban mind a négy kérdésre találmra válaszol, akkor mennyi annak a valószínűsége, hogy minden válasza helyes? (3 pont)
- d) Hány játékosnak kell helyesen válaszolnia egy adott kérdésre ahhoz, hogy a 20 játékosnak erre a kérdésre kapott összpontszáma a lehető legtöbb legyen? (7 pont)
- 8) Ha fél kilogramm narancs 75 Ft-ba kerül, akkor hány kilogramm narancsot kapunk 300 Ft-ért? (2 pont)
- 9) A Kis család 700 000 Ft megtakarított pénzét éves lekötésű takarékbán helyezte el az A Bankban, kamatos kamatra. A pénz két évig kamatozott, évi 6 %-os kamatos kamattal. (A kamatláb tehát ebben a bankban 6 % volt.)
- a) Legfeljebb mekkora összeget vehettek fel a két év elteltével, ha a kamatláb a két év során nem változott? (3 pont)
- A Nagy család a B Bankban 800 000 Ft-ot helyezett el, szintén két évre, kamatos kamatra.
- b) Hány százalékos volt a B Bankban az első év folyamán a kamatláb, ha a bank ezt a kamatlábat a második évre 3%-kal növelte, és így a második év végén a Nagy család 907 200 Ft-ot vehetett fel? (10 pont)
- c) A Nagy család a bankból felvett 907 200 Ft-ért különféle tartós fogyasztási cikkeket vásárolt. Hány forintot kellett volna fizetniük ugyanezekért a fogyasztási cikkekért két évvel korábban, ha a vásárolt termékek ára az eltelt két év során csak a 4%-os átlagos éves inflációnak megfelelően változott? (A 4%-os átlagos éves infláció szemléletesen azt jelenti, hogy az előző évben 100 Ft-ért vásárolt javakért idén 104 Ft-ot kell fizetni.) (4 pont)
- 10) Egy kisüzem 6 egyforma teljesítményű gépe 12 nap alatt gyártaná le a megrendelt csavarmennyiséget. Hány ugyanilyen teljesítményű gépnek kellene dolgoznia ahhoz, hogy ugyanennyi csavart 4 nap alatt készítsenek el? (2 pont)

11) Egy vetélkedőn részt vevő versenyzők érkezéskor sorszámot húznak egy urnából. Az urnában 50 egyforma gömb van. Minden egyes gömbben egy-egy szám van, ezek különböző egész számok 1-től 50-ig.

a) Mekkora annak a valószínűsége, hogy az elsőnek érkező versenyző héttel osztható sorszámot húz? (3 pont)

A vetélkedő győztese között jutalomként könyvutalványt szerettek volna szétosztani a szervezők. A javaslat szerint Anna, Bea, Csaba és Dani kapott volna jutalmat, az egyes jutalmak aránya az előbbi sorrendnek megfelelően 1:2:3:4. Közben kiderült, hogy akinek a teljes jutalom ötödét szánták, önként lemond az utalványról. A zsűri úgy döntött, hogy a neki szánt 16000 forintos utalványt is szétosztják a másik három versenyző között úgy, hogy az ő jutalmaik közötti arány ne változzon.

b) Összesen hány forint értékű könyvutalványt akartak a szervezők szétosztani a versenyzők között, és ki mondott le a könyvutalványról? (6 pont)

c) Hány forint értékben kapott könyvutalványt a jutalmat kapott három versenyző külön-külön? (3 pont)


12) Ha az eredetileg $I_0 \left(\frac{\text{watt}}{\text{m}^2} \right)$ watt intenzitású lézersugár x mm ($x \geq 0$) mélyre hatol egy bizonyos anyagban, akkor ebben a mélységben intenzitása $I(x) = I_0 \cdot 0,1^{\frac{x}{6}} \left(\frac{\text{watt}}{\text{m}^2} \right)$ lesz. Ezt az anyagot $I_0 = 800 \left(\frac{\text{watt}}{\text{m}^2} \right)$ intenzitású lézersugárral világítják meg.

a) Töltse ki az alábbi táblázatot! (Az intenzitásra kapott mérőszámokat egészre kerekítve adja meg!) (3 pont)

x (mm)	0	0,3	0,6	1,2	1,5	2,1	3
$I(x) \left(\frac{\text{watt}}{\text{m}^2} \right)$	800						

b) Mekkora mélységben lesz a behatoló lézersugár intenzitása az eredeti érték (I_0) 15 %-a? (A választ tizedmilliméterre kerekítve adja meg!)(6 pont)

c) Egy gyermekszínház műsorának valamelyik jelenetében dekorációként az ábrán látható elrendezés szerinti négy csillag közül egyeseket zöld vagy kék lézerfényvel rajzolnak ki. Hány különböző dekorációs terv készülhet, ha legalább egy csillagot ki kell rajzolni a lézerrel?



(8 pont)

13) András 140 000 forintos fizetését megemelték 12 %-kal. Mennyi lett András fizetése az emelés után? (2 pont)

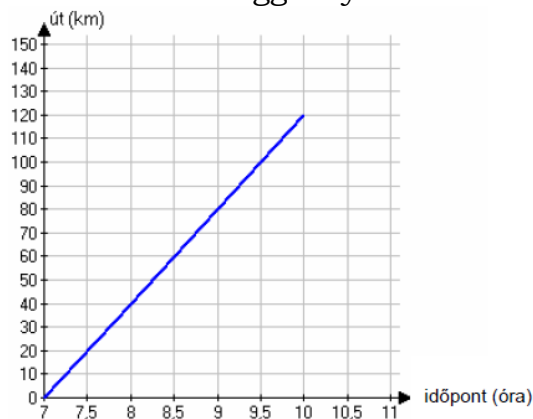
14) A testtömegindex kiszámítása során a vizsgált személy kilogrammban megadott tömegét osztják a méterben mért testmagasságának négyzetével. Számítsa ki Károly testtömegindexét, ha magassága 185 cm, tömege pedig 87 kg! (3 pont)

- 15) A munkavállaló nettó munkabérét a bruttó béréből számítják ki levonások és jövővairások alkalmazásával. Kovács úr bruttó bére 2010 áprilisában 200 000 forint volt. A 2010-ben érvényes szabályok alapján különböző járulékokra ennek a bruttó bérnek összesen 17%-át vonták le. Ezen felül a bruttó béréből személyi jövedelemadót is levontak, ez a bruttó bér 127%-ának a 17%-a volt. A levonások után megmaradó összeghez hozzáadtak 15 100 forintot adójövővairásként. Az így kapott érték volt Kovács úr nettó bére az adott hónapban.
- a) Számítsa ki, hogy Kovács úr bruttó bérének hány százaléka volt a nettó bére az adott hónapban!
Szabó úr nettó bére 2010 áprilisában 173 015 forint volt. Szabó úr fizetésénél a levonásokat ugyanazzal az eljárással számították ki, mint Kovács úr esetében, de ebben a hónapban Szabó úr csak 5980 forint adójövővairást kapott. (5 pont)
- b) Hány forint volt Szabó úr bruttó bére az adott hónapban? (7 pont)
- 16) Egy középiskolának 480 tanulója van. A diákok egy része kollégiumban lakik, a többiek bejárók. A bejárók és a kollégisták nemek szerinti eloszlását mutatja a kördiagram. Adja meg a kollégista fiúk számát! Válaszát indokolja! (3 pont)



- 17) Stefi mobiltelefon-költségeinek fedezésére feltöltőkártyát szokott vásárolni. A mobiltársaság ebben az esetben sem előfizetési díjat, sem hívásonkénti kapcsolási díjat nem számol fel. Csúcsidőben a percdíj 25 forinttal drágább, mint csúcsidőn kívül. Stefi az elmúlt négy hétben összesen 2 órát telefonált és 4000 Ft-ot használt fel kártyája egyenlegéből úgy, hogy ugyanannyi pénzt költött csúcsidőn belüli, mint csúcsidőn kívüli beszélgetésekre.
- a) Hány percet beszélt Stefi mobiltelefonján csúcsidőben az elmúlt négy hétben? A mobiltársaság Telint néven új mobilinternet csomagot vezet be a piacra január elsején. Januárban 10 000 új előfizetőt várnak, majd ezután minden hónapban az előző havinál 7,5%-kal több új előfizetőre számítanak. Abban a hónapban, amikor az adott havi új előfizetők száma eléri a 20 000-et, a társaság változtatni szeretne a Telint csomag árán. (11 pont)
- b) Számítsa ki, hogy a tervek alapján melyik hónapban éri el a Telint csomag egyhavi új előfizetőinek a száma a 20 000-et! (6 pont)
- 18) Egy vállalat 250 000 Ft-ért vásárol egy számítógépet. A gép egy év alatt 10%-ot veszít az értékéből. Mennyi lesz a gép értéke 1 év elteltével? Írja le a számítás menetét! (3 pont)

- 19) Budapestről reggel 7 órakor egy tehervonat indul Debrecenbe, amely megállás nélkül egyenletes sebességgel halad. A koordinátarendszerben a tehervonat által megtett utat ábrázoltuk az idő függvényében.



- a) Mekkora utat tett meg a tehervonat az első órában? (2 pont)
 b) Számítsa ki, hogy hány óra alatt tesz meg a tehervonat 108 kilométert? (2 pont)

Budapestről reggel 7 óra 30 perckor egy gyorsvonat is indul ugyanazon az útvonalon Debrecenbe, amely megállás nélkül 70 km/h állandó nagyságú sebességgel halad.

- c) Rajzolja be a fenti koordinátarendszerbe a gyorsvonat út-idő grafikonját a 7 óra 30 perc és 9 óra 30 perc közötti időszakban! (2 pont)
 d) Számítsa ki, hogy mikor és mekkora út megtétele után éri utol a gyorsvonat a tehervonatot! (11 pont)

- 20) Egy 40 000 Ft-os télikabátot a tavaszi árleszállításkor 10%-kal olcsóbban lehet megvenni. Mennyi a télikabát leszállított ára? (2 pont)

- 21) Egy teherautóval több zöldségboltba almát szállítottak. Az egyik üzletbe 60 kg jonatánt, 135 kg starkingot, 150 kg idaredet és 195 kg golden almát vittek. A jonatán és az idared alma kilóját egyaránt 120 Ft-ért, a starking és a golden kilóját 85 Ft-ért árulta a zöldséges.

- a) Hány százalékkal volt drágább a jonatán alma kilója a goldenéhoz képest? (2 pont)
 b) Mennyi bevételhez jutott a zöldséges, ha a teljes mennyiséget eladta? (2 pont)
 c) A zöldségeshez kiszállított árukészlet alapján számítsa ki, hogy átlagosan mennyibe került nála 1 kg alma! (3 pont)
 d) Ábrázolja kördiagramon a zöldségeshez érkezett alma mennyiségének fajták szerinti megoszlását! (6 pont)

A jonatán alma mérete kisebb, mint az idaredé, így abból átlagosan 25%-kal több darab fér egy ládába, mint az idaredből. Rakodásnál mindkét fajtából kiborult egy-egy tele láda alma, és tartalmuk összekeveredett.

- e) A kiborult almákból véletlenszerűen kiválasztva egyet, mekkora a valószínűsége annak, hogy az jonatán lesz? (4 pont)

- 22) Egy országban egy választáson a szavazókorú népesség 63,5%-a vett részt. A győztes pártra a résztvevők 43,6%-a szavazott.

Hány fős a szavazókorú népesség, ha a győztes pártra 4 152 900 fő szavazott? Válaszát indokolja! (3 pont)

- 23) Egy konzerv tömege a konzervdobozzal együtt 750 gramm. A konzervdoboz tömege a teljes tömeg 12%-a. Hány gramm a konzerv tartalma? (2 pont)

- 24) Egy termék árát az egyik hónapban 20%-kal, majd a következő hónapban újabb 20%-kal megemelték. A két áremelés együttesen hány százalékos áremelésnek felel meg? Válaszát indokolja! (3 pont)
- 25) Kóstolóval egybekötött termékbemutatót tartottak egy új kávékeverék piaci megjelenését megelőzően. Két csoport véleményét kérték úgy, hogy a terméket az 1-től 10-ig terjedő skálán mindenkinek egy-egy egész számmal kellett értékelnie. Mindkét csoport létszáma 20 fő volt. A csoportok értékelése az alábbi táblázatban látható.

pontszám	1	2	3	4	5	6	7	8	9	10
gyakoriság az 1. csoportban	0	0	1	0	6	8	2	2	1	0
gyakoriság a 2. csoportban	0	8	0	2	0	1	0	0	0	9

- a) Ábrázolja közös oszlopdiagramon, különböző jelölésű oszlopokkal a két csoport pontszámait! A diagramok alapján fogalmazzon meg véleményt arra vonatkozóan, hogy melyik csoportban volt nagyobb a pontszámok szórása! Véleményét a diagramok alapján indokolja is! (5 pont)
- b) Hasonlítsa össze a két csoport pontszámainak szórását számítások segítségével is! (5 pont)
- Kétféle kávéból 14 kg 4600 Ft/kg egységárú kávékeveréket állítanak elő. Az olcsóbb kávéfajta egységára 4500 Ft/kg, a drágábbé pedig 5000 Ft/kg.
- c) Hány kilogramm szükséges az egyik, illetve a másik fajta kávéból? (7 pont)
- 26) András és Péter „számkártyázik” egymással. A játék kezdetén mindkét fiúnál hat-hat lap van: az 1, 2, 3, 4, 5, 6 számkártya. Egy mérkőzés hat csata megvívását jelenti, egy csata pedig abból áll, hogy András és Péter egyszerre helyez el az asztalon egy-egy számkártyát. A csatát az nyeri, aki a nagyobb értékű kártyát tette le. A nyertes elviszi mindkét kijátszott lapot. (Például ha András a 4-est, Péter a 2-est teszi le, akkor András viszi el ezt a két lapot.) Ha ugyanaz a szám szerepel a két kijátszott számkártyán, akkor a csata döntetlenre végződik. Ekkor mindketten egy-egy kártyát visznek el. Az elvitt kártyákat a játékosok maguk előtt helyezik el, ezeket a továbbiakban már nem játsszák ki.



- a) Hány kártya van Péter előtt az első mérkőzés után, ha András az 1, 2, 3, 4, 5, 6, Péter pedig a 2, 4, 5, 3, 1, 6 sorrendben játszotta ki a lapjait? (2 pont)

A második mérkőzés során Péter az 1, 2, 3, 4, 5, 6 sorrendben játszotta ki a lapjait, és így összesen két lapot vitt el.

- b) Adjon meg egy lehetséges sorrendet, amelyben András kijátszhatta lapjait! (3 pont)

A harmadik mérkőzés hat csatája előtt András elhatározta, hogy az első csatában a 2-es, a másodikban a 3-as számkártyát teszi majd le, Péter pedig úgy döntött, hogy ő véletlenszerűen játssza ki a lapjait (alaposan megkeveri a hat kártyát, és mindig a felül lévőket küldi csatába).

- c) Számítsa ki annak a valószínűségét, hogy az első két csatát Péter nyeri meg! (6 pont)

A negyedik mérkőzés előtt mindketten úgy döntöttek, hogy az egész mérkőzés során véletlenszerűen játsszák majd ki a lapjaikat. Az első három csata után Andrásnál a 3, 4, 6 számkártyák maradtak, Péternél pedig az 1, 5, 6 számkártyák.

d) Adja meg annak a valószínűségét, hogy András az utolsó három csatából pontosan kettőt nyer meg! (6 pont)

27) A szociológusok az országok statisztikai adatainak összehasonlításánál használják a következő tapasztalati képletet: $\hat{E} = 75,5 - 5 \cdot 10^{\frac{6000-G}{6090}}$.

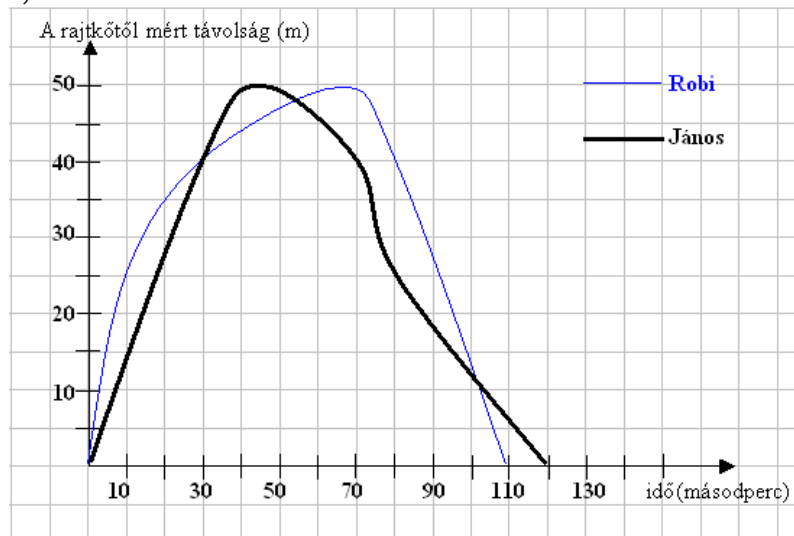
A képletben az \hat{E} a születéskor várható átlagos élettartam években, G az ország egy főre jutó nemzeti összterméke (a GDP) reálértékben, átszámítva 1980-as dollárra.

a) Mennyi volt 2005-ben a várható élettartam abban az országban, amelyben akkor a G nagysága 1090 dollár volt? (4 pont)

b) Mennyivel változhat ebben az országban a várható élettartam 2020-ra, ha a gazdasági előrejelzések szerint ekkorra G értéke a 2005-ös szint háromszorosára nő? (5 pont)

c) Egy másik országban 2005-ben a születéskor várható átlagos élettartam 68 év. Mekkora volt ekkor ebben az országban a GDP (G) nagysága (reálértékben, átszámítva 1980-as dollárra)? (8 pont)

28) Egy sportuszoda 50 méteres medencéjében egy edzés végén úszóversenyt rendeztek. A versenyt figyelve az edző a következő grafikonot rajzolta két tanítványának, Robinak és Jánosnak az úszásáról.



Olvassa le a grafikonról, hogy

a) Mennyi volt a legnagyobb távolság a két fiú között a verseny során (1 pont)

b) Mikor előzte meg János Robit (2 pont)

c) Melyikük volt gyorsabb a 35. másodpercben! (2 pont)

A 4*100-as gyorsváltó házi versenyén a döntőbe a Delfinek, a Halak, a Vidrák és a Cápák csapata került.

d) Hányféle sorrend lehetséges közöttük, ha azt biztosan tudjuk, hogy nem a Delfinek csapata lesz a negyedik? (3 pont)

e) A verseny után kiderült, hogy az élen kettős holtverseny alakult ki, és a Delfinek valóban nem lettek az utolsók. Feltéve, hogy valakinek csak ezek az információk jutottak a tudomására, akkor ennek megfelelően hányféle eredménylistát állíthatott össze? (4 pont)

29) Egy szám $\frac{5}{6}$ részének a 20%-a 31. Melyik ez a szám? Válaszát indokolja!

(3 pont)

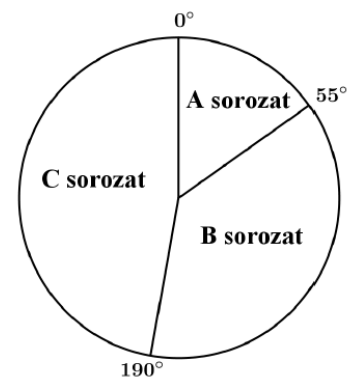
30) Egy közvélemény-kutató intézet azt a feladatot kapta, hogy két alkalommal – fél év különbséggel – mérje fel a TV-ben látható három filmsorozat nézettségi adatait. Az ábrán látható kérdőíven a válaszoló vagy azt jelölhette be, hogy az A, B, és C sorozatok közül melyiket nézi (akár többet is meg lehetett jelölni), vagy azt, hogy egyiket sem nézi. Az első felméréskor kapott 600 kérdőív jelöléseit összesítve megállapították, hogy az A sorozat összesen 90 jelölést kapott, a B sorozat összesen 290-et, a C sorozat pedig összesen 230-at. Érdekes módon olyan válaszadó nem volt, aki pontosan két sorozatot nézett volna, viszont 55-en mindhárom sorozatot bejelölték.

a) A válaszolók hány százaléka nézte az A sorozatot? (2 pont)

b) Hány válaszoló nem nézte egyik sorozatot sem? (5 pont)

A második felmérés során kiválogatták azokat a kérdőíveket, amelyeken valamelyik sorozat meg volt jelölve. Ezekben a három sorozat nézettségére összesen 576 jelölés érkezett. Az adatok feldolgozói minden jelölést megszámoztak, és a végeredményről az itt látható kördiagramot készítették.

c) Számítsa ki, hogy az egyes sorozatok nézettségére hány jelölés érkezett! (5 pont)



31) Egy család személyautóval Budapestről Keszthelyre utazott. Útközben lakott területen belül, országúton és autópályán is haladtak. Az utazással és az autóval kapcsolatos adatokat a következő táblázat tartalmazza:

	megtett út hossza (km)	átlagsebesség ($\frac{\text{km}}{\text{óra}}$)	átlagos benzinfogyasztás 100 km-en (liter)
lakott területen belül	45	40	8,3
országúton	35	70	5,1
autópályán	105	120	5,9

a) Mennyi ideig tartott az utazás? (4 pont)

b) Hány liter ezen az utazáson az autó 100 km-re eső átlagfogyasztása? Válaszát egy tizedesjegyre kerekítve adja meg! (5 pont)

Útközben elfogyott az autóból a benzin. A legközelebbi benzinkútnál kétféle benzines kannát lehet kapni. A nagyobbra rá van írva, hogy 20 literes, a kisebbre nincs ráírva semmi. A két kanna (matematikai értelemben) hasonló, a nagyobb kanna magassága éppen kétszerese a kisebb kanna magasságának.

c) Hány literes a kisebb kanna? (4 pont)

32) Zsuzsa nagyszülei elhatározzák, hogy amikor unokájuk 18 éves lesz, akkor vásárlási utalványt adnak neki ajándékba. Ezért Zsuzsa 18. születésnapja előtt 18 hónapon keresztül minden hónapban félretesznek valamekkora összeget úgy, hogy Zsuzsa 18. születésnapján éppen 90 000 forintjuk legyen erre a célra. Úgy tervezik, hogy az első alkalom után mindig 200 forinttal többet tesznek félre, mint az előző hónapban.

a) Terveik szerint mennyi pénzt tesznek félre az első, és mennyit az utolsó alkalommal? (7 pont)

Zsuzsa egyik testvére hét évvel idősebb a másik testvérénél. A két testvér életkorának mértani közepe 12.

b) Hány éves Zsuzsa két testvére? (5 pont)

33) Egy idén megjelent iparági előrejelzés szerint egy bizonyos alkatrész iránti kereslet az elkövetkező években emelkedni fog, minden évben az előző évi kereslet 6%-ával. (A kereslet az adott termékből várhatóan eladható mennyiséget jelenti.)

a) Várhatóan hány százalékkal lesz magasabb a kereslet 5 év múlva, mint idén? (3 pont)

Az előre jelzés szerint ugyanezen alkatrész ára az elkövetkező években csökkenni fog, minden évben az előző évi ár 6%-ával.

b) Várhatóan hány év múlva lesz az alkatrész ára az ideai ár 65%-a? (5 pont)

Egy cég az előrejelzésben szereplő alkatrész eladásából szerzi meg bevételeit. A cég vezetői az elkövetkező évek bevételeinek tervezésénél abból indulnak ki, hogy a fentiek szerint a kereslet évente 6%-kal növekszik, az ár pedig évente 6%-kal csökken.

c) Várhatóan hány százalékkal lesz alacsonyabb az éves bevétel 8 év múlva, mint idén? (5 pont)

A kérdéses alkatrész egy forgáskúp alakú tömör test. A test alapkörének sugara 3 cm, alkotója 6 cm hosszú.

d) Számítsa ki a test térfogatát! (4 pont)

34) Egy webáruházba való belépés előzetes regisztrációhoz kötött, melynek során a regisztráló életkorát is meg kell adnia. Az adatok alapján a 25560 regisztráló közül 28 évesnél fiatalabb 7810 fő, 55 évesnél idősebb 4615 fő, a többiek 28 és 55 év közöttiek.

a) Készítsen a létszámadatok alapján kördiagramot, kiszámítva a három körcikkhez tartozó középponti szögeket is! (5 pont)

A webáruház üzemeltetői a vásárlói szokásokat szeretnék elemezni, ezért a regisztráltak közül véletlenszerűen kiválasztanak két személyt.

b) Adja meg annak a valószínűségét, hogy az egyik kiválasztott személy 28 évesnél fiatalabb, a másik 55 évesnél idősebb! (4 pont)

A regisztráltak egy része vásárol is a webáruházban. A vásárlók között a 28 év alattiak éppen kétszer annyian vannak, mint az 55 évesnél idősebbek. A 28 év alattiak az elmúlt időszakban összesen 19 325 700 Ft, az 55 év felettiak 17 543 550 Ft értékben vásároltak. Az 55 év felettiak átlagosan 2410 Ft-tal költöttek többet, mint a 28 év alattiak.

c) Számítsa ki, hány 55 év feletti vásárlója volt a webáruháznak, és adja meg, hogy ezek a vásárlók átlagosan mennyit költöttek! (8 pont)

35) A ruházati cikkek nettó árát 27%-kal növeli meg az áfa (általános forgalmi adó). A nettó ár és az áfa összege a bruttó ár, amelyet a vásárló fizet a termék megvásárlásakor. Egy nadrágért 6350 Ft-ot fizetünk. Hány forint áfát tartalmaz a nadrág ára? Megoldását részletezze! (3 pont)

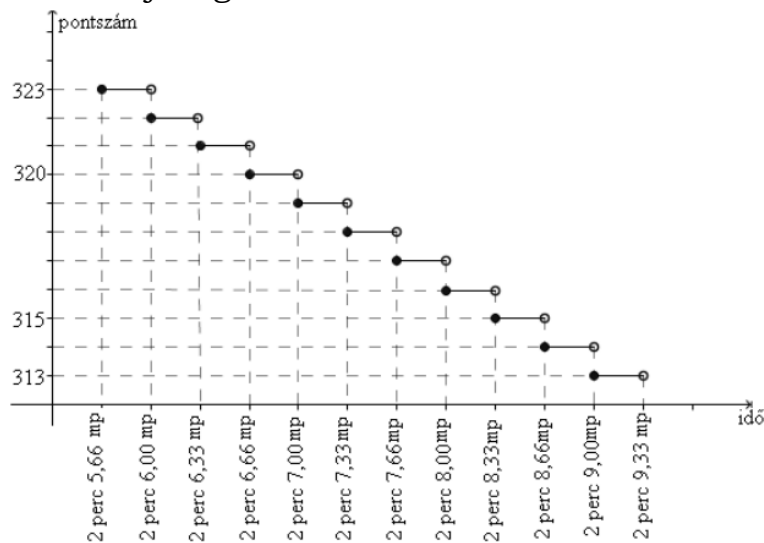
36) Az iskolai asztaliteniszbajnokságon heten indulnak. Mindenki mindenkivel egyszer játszik. Mostanáig Anita már mind a 6 mérkőzését lejátszotta, Zsuzsa 2, Gabi, Szilvi, Kati és Orsi pedig 1-1 mérkőzésen vannak túl. Hány mérkőzését játszotta le mostanáig a bajnokság hetedik résztvevője, Flóra?(2 pont)

37) Egy öttusaversenyen 31 résztvevő indult. A vívás az első szám, ahol mindenkivel egyszer mérkőzik meg. Aki 21 győzelmet arat, az 250 pontot kap. Aki ennél több győzelmet arat, az minden egyes további győzelemért 7 pontot kap a 250 ponton felül. Aki ennél kevesebbszer győz, attól annyiszor vonnak le 7 pontot a 250-ből, ahány győzelem hiányzik a 21-hez. (A mérkőzések nem végződhetnek döntetlenre.)

a) Hány pontot kapott a vívás során Péter, akinek 5 veresége volt? (3 pont)

b) Hány győzelme volt Bencének, aki 215 pontot szerzett? (3 pont)

Az öttusa úszás számában 200 métert kell úszni. Az elért időeredményeként járó pontszámot mutatja a grafikon.



c) Jelölje meg az alábbi két kérdés esetén a helyes választ!

Hány pontot kapott Robi, akinek az időeredménye 2 perc 6,28 másodperc? (2 pont)

- A: 320
- B: 321
- C: 322
- D: 323

Péter 317 pontot kapott. Az alábbiak közül válassza ki Péter időeredményét!

- A: 2 perc 7,00 mp
- B: 2 perc 7,60 mp
- C: 2 perc 7,80 mp
- D: 2 perc 8,00 mp

Az öttusa lovaglás számában egy akadálypályán tizenkét különböző akadályt kell a versenyzőnek átugrania. Egy akadály a nehézsége alapján három csoportba sorolható: A, B vagy C típusú. Ádám a verseny előtti bemelegítéskor először az öt darab A, majd a négy darab B, végül a három darab C típusú akadályokon ugrat át, mindegyiken pontosan egyszer. Bemelegítéskor az egyes akadálytípusokon belül a sorrend szabadon megválasztható.

d) Számítsa ki, hogy a bemelegítés során hányféle sorrendben ugrathatja át Ádám a tizenkét akadályt! (4 pont)

38) Egy 2014 végén készült előrejelzés szerint az Indiában élő tigrisek t száma az elkövetkezendő években (az egyes évek végén) megközelítőleg a következő összefüggés szerint alakul: $t(x) = 3600 \cdot 0,854^x$, ahol x a 2014 óta eltelt évek számát jelöli.

a) Számítsa ki, hogy az előrejelzés alapján 2016 végére hány százalékkal csökken a tigrisek száma a 2014-es év végi adathoz képest! (4 pont)

b) Melyik évben várható, hogy a tigrisek száma 900 alá csökken? (4 pont)

Egy állatkert a tigrisek fennmaradása érdekében tenyésztő programba kezd. Beszereznek 4 hím és 5 nőstény kölyöktigrist, melyeket egy kisebb és egy nagyobb kifutóban kívánnak elhelyezni a következő szabályok mindegyikének betartásával:

I) háromnál kevesebb tigris egyik kifutóban sem lehet;

II) a nagyobb kifutóba több tigris kerül, mint a kisebbikbe;

III) mindkét kifutóban hím és nőstény tigrist is el kell helyezni;

IV) egyik kifutóban sem lehet több hím, mint nőstény tigris.

c) Hányféleképpen helyezhetik el a 9 tigrist a két kifutóban? (8 pont)

(A tigriseket megkülönböztetjük egymástól, és két elhelyezést eltérőnek tekintünk, ha van olyan tigris, amelyik az egyik elhelyezésben más kifutóban van, mint a másik helyezésben.)

39) Ha 1 kg szalámi ára 2800 Ft, akkor hány forintba kerül 35 dkg szalámi? (2 pont)

40) A kereskedelemmel foglalkozó cégek között több olyan is van, amely állandóan emelkedő fizetéssel jutalmazza a dolgozók munkavégzését. Péter munkát keres, és két cég ajánlata közül választhat:

I. ajánlat: Az induló fizetés 200000 Ft, amit havonta 5000 Ft-tal emelnek négy éven át.

II. ajánlat: Az induló fizetés 200000 Ft, amit havonta 2%-kal emelnek négy éven át.

a) Melyik ajánlatot válassza Péter, ha tervei szerint négy évig a választott munkahelyen akar dolgozni, és azt az ajánlatot szeretné választani, amelyik a négy év alatt nagyobb összjövedelmet kínál? (7 pont)

A Péter szerződésében szereplő napi 8 óra munkaidő rugalmas, azaz lehetnek olyan napok, amikor 8 óránál többet, és olyanok is, amikor kevesebbet dolgozik. 6 óránál kevesebbet, illetve 10 óránál többet sosem dolgozik egy nap. Az alábbi táblázatban Péter januári munkaidő-kimutatásának néhány adata látható.

Napi munkaidő (óra)	6	7	8	9	10
Hány munkanapon dolgozott ennyi órát?	4	5			3

b) Számítsa ki a táblázatból hiányzó két adatot, ha tudjuk, hogy január hónap 22 munkanapján Péter átlagosan naponta 8 órát dolgozott! (6 pont)

41) A mobiltelefonok 1990 végén jelentek meg Magyarországon. Az előfizetések száma gyorsan nőtt: 2002 végén már kb. 7 millió, 2008 végén pedig kb. 12 millió előfizetés volt az országban.

a) Hány százalékkal nőtt a mobiltelefon előfizetések száma 2002 végétől 2008 végéig? (2 pont)

1993 és 2001 között az egyes évek végén nyilvántartott mobiltelefon-előfizetések számát – ezer darabban – jó közelítéssel a következő függvény adja meg: $f(x) = 51 \cdot 1,667^x$, ahol x az 1992 vége óta eltelt évek számát jelöli.

b) A függvény alapján hány mobiltelefon-előfizető lehetett 2000 végén? (3 pont)

A kezdeti időszakban a mobilhálózatból indított hívások száma is gyors növekedést mutatott. 1991 januárjában Magyarországon körülbelül 350 000 mobilhívást indítottak, majd ettől a hónaptól kezdve minden hónapban megközelítőleg 6,5%-kal nőtt a hívások száma az előző havi hívások számához viszonyítva (egészen 2002-ig).

c) Melyik évben volt az a hónap, amelyben az egy havi mobilhívások száma először elérte a 100 milliót? (6 pont)

A mobiltelefonok elterjedése egy idő után a vezetékestelefon-előfizetések és hívások számának csökkenését eredményezte. A vezetékestelefon-hálózatból indított hívások száma Magyarországon 2000-ben kb. 4200 millió volt, majd ez a szám évről évre kb 8%-kal csökkent.

d) Hány hívást indítottak vezetékes hálózatból 2009-ben, és összesen hány vezetékes hívás volt a 2000 elejétől 2009 végéig terjedő tízéves időszakban? (6 pont)

42) Egy matematikaversenyen 25 feladatot kell a résztvevőknek megoldaniuk 75 perc alatt. A felkészülés során Vera azt tervezgeti, hogy mennyi időt töltsön majd a könnyebb feladatok megoldásával, és mennyi időt hagyjon a nehezebbekre. Az első feladatra 1 percet szán. A versenyfeladatok általában egyre nehezedő sorrendben vannak megadva; Vera ezt úgy veszi figyelembe a tervezésnél, hogy a második feladattól kezdve mindig ugyanannyival növeli az egyes feladatok megoldására fordítható időt. Vera a rendelkezésére álló teljes időtartamot szeretné kitölteni a feladatok megoldásával.

a) A terv szerint összesen mennyi időt szán Vera az utolsó 4 feladat megoldására? (7 pont)

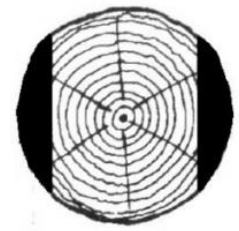
A versenyzőknek minden feladat megoldása után öt lehetséges válasz közül kell az egyetlen helyes választ kiválasztaniuk. Egy versenyző pontszámának kiszámítása a $4 \cdot H - R + F$ képlettel történik, ahol H a helyes válaszok, R a rossz feladatok, F pedig a kitűzött feladatok számát jelenti (a kihagyott feladatokra 0 pont jár). Vera a 25 kitűzött feladat közül 3-at hagyott ki, és összesen 93 pontot szerzett.

b) Hány helyes választ adott Vera? (5 pont)

Vera osztályából összesen 11-en indultak a versenyen. Közülük ugyanannyian oldották meg a 24-es, mint a 25-ös feladatot. Sőt ugyanennyien voltak azok is, akik a két feladat egyikét sem oldották meg. Egy olyan versenyző volt az osztályban, aki a 24-es és a 25-ös feladatot is megoldotta.

c) Hányan voltak az osztályban azok, akik a 24-es feladatot megoldották, de a 25-ös feladatot nem? (5 pont)

43) A Hód Kft. Faárutelephelyén rönkfából (henger alakú fatörzsekből) a következő módon készítenek gerendát. A keresztfűrészgép először két oldalt levág egy-egy – az ábra sötéttel jelölt – részt, majd a fa 90° -kal történő elfordítása után egy hasonló vágással végül egy négyzetes hasáb alakú gerendát készít. A gépet úgy állítják be, hogy a kapott hasáb alaplapja a lehető legnagyobb legyen. Most egy forgáshenger alakú, 60 cm átmérőjű, 5 méter hosszú rönkfát fűrészol így a gép.



a) Igaz-e, hogy a kapott négyzetes hasáb alakú fagerenda térfogata kisebb 1 köbméternél? (6 pont)

A Hód Kft. Deszkaárut is gyárt, ehhez a faanyagot 30000 Ft/m^3 -es beszerzési áron vásárolja meg a termelőtől. A gyártás közben a megvásárolt fa kb. 40%-ából hulladékfa lesz. A késztermék 1 köbméterét 90000 forintért adja el a cég, de az eladási ár 35%-át a költségekre kell fordítania (feldolgozás, telephely fenntartása stb.).

b) Mennyi haszna keletkezik a Hód Kft.-nek 1 köbméter deszkaáru eladásakor? (5 pont)

A fakitermelő cég telephelyéről hat teherautó indul el egymás után. Négy teherautó fenyőfát, kettő pedig tölgyfát szállít.

c) Számítsa ki annak a valószínűségét, hogy a két, tölgyfát szállító teherautó közvetlenül egymás után gördül ki a telephelyről, ha az autók indulási sorrendje véletlenszerű! (6 pont)