

## Statisztika

- 1) Egy dolgozatnál az elérhető legmagasabb pontszám 100 volt. 15 tanuló eredményeit tartalmazza a következő táblázat:

Elért pontszám	100	95	91	80	65	31	17	8	5
A dolgozatok	3	2	1	2	1	2	2	1	1

- a) Határozza meg az összes dolgozat pontszámának átlagát (számtani közepét), móduszát és mediánját! (5 pont)
- b) A dolgozatok érdemjegyeit az alábbi táblázat alapján kell megállapítani!

Pontszám	Osztályzat
80-100	jeles
60-79	jó
40-59	közepes
20-39	elégséges
0-19	elégtelen

Ennek ismeretében töltsse ki a következő táblázatot! (2 pont)

Osztályzat	jeles	jó	közepes	elégséges	elégtelen
A dolgozatok száma					

- c) Készítsen kördiagramot az osztályzatok megoszlásáról! Adja meg az egyes körcikkekhez tartozó középponti szögek értékét is! (5 pont)
- 2) A fizika órai tanulókísérlet egy tömegmérési feladat volt. A mérést 19 tanuló végezte el. A mért tömegre gramm pontossággal a következő adatokat kapták: 37, 33, 37, 36, 35, 36, 37, 40, 38, 33, 37, 36, 35, 35, 38, 37, 36, 35, 37.
- a) Készítse el a mért adatok gyakorisági táblázatát! (3 pont)
- b) Mennyi a mérési adatok átlaga gramm pontossággal? (3 pont)
- c) Mekkora a kapott eredmények mediánja, módusza? (2 pont)
- d) Készítsen oszlopdiagramot a mérési eredményekről! (4 pont)
- 3) Egy osztály történelem dolgozatot írt. Öt tanuló dolgozata jeles, tíz tanulóé jó, három tanulóé elégséges, két tanulóé elégtelen dolgozatot írt.
- a) Hányan írtak közepes dolgozatot, ha tudjuk, hogy az osztályátlag 3,410-nál nagyobb és 3,420-nál kisebb? (10 pont)
- b) Készítsen gyakorisági táblázatot, és ábrázolja oszlop-diagrammal az osztályzatok gyakoriságát! (4 pont)
- c) A párhuzamos osztályban 32 tanuló írta meg ugyanezt a dolgozatot, és ott 12 közepes dolgozat született. Melyik osztályban valószínűbb, hogy a dolgozatok közül egyet véletlenszerűen elővéve éppen közepes dolgozat kerül a kezünkbe? (3 pont)
- 4) Az alábbi adatok március első hetében mért napi hőmérsékleti maximumok (az adatokat °C-ban mérték):

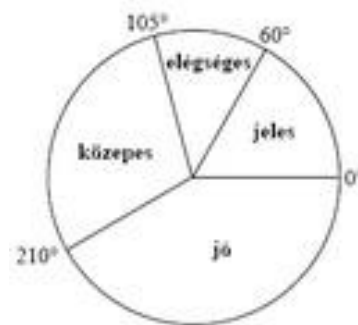
hétfő	kedd	szerda	csütörtök	péntek	szombat	vasárnap
5,2	1,6	3,1	-0,6	-1,1	1,6	0

Mennyi volt ezen a héten a hőmérsékleti maximumok átlaga? (2 pont)

- 5) A 12. évfolyam tanulói magyarból próbaérettségit írtak. Minden tanuló egy kódszámot kapott, amely az 1, 2, 3, 4 és 5 számjegyekből mindegyiket pontosan egyszer tartalmazta valamilyen sorrendben.
- a) Hány tanuló írta meg a dolgozatot, ha az összes képezhető kódszámot mind kiosztották? (3 pont)

b) Az alábbi kördiagram a dolgozatok eredményét szemlélteti:

Adja meg, hogy hány tanuló érte el a szereplő érdemjegyeket! Válaszát foglalja táblázatba, majd a táblázat adatait szemléltesse oszlop-diagramon is! (6 pont)



c) Az összes megírt dolgozathoz véletlenszerűen kiválasztunk egyet. Mennyi a valószínűsége annak, hogy jeles vagy jó dolgozatot veszünk a kezünkbe? (3 pont)

6) Egy márciusi napon öt alkalommal mérték meg a külső hőmérsékletet. A kapott adatok átlaga 1 °C, mediánja 0 °C. Adjon meg öt ilyen lehetséges hőmérséklet értéket! (4 pont)

7) Egy tanulmányi verseny döntőjében 8 tanuló vett részt. Három feladatot kellett megoldaniuk. Az első feladat maximálisan elérhető pontszáma 40, a másodiké 50, a harmadiké 60. A nyolc versenyző feladatonkénti eredményeit tartalmazza az alábbi táblázat:

Versenyző sorszáma	I.	II.	III.	Összpontszám	Százalékos teljesítmény
1.	28	16	40		
2.	31	35	44		
3.	32	28	56		
4.	40	42	49		
5.	35	48	52		
6.	12	30	28		
7.	29	32	45		
8.	40	48	41		

a) Töltse ki a táblázat hiányzó adatait! A százalékos teljesítményt egészre kerekítve adja meg!

Melyik sorszámú versenyző nyerte meg a versenyt, ki lett a második, és ki a harmadik helyezett? (5 pont)

b) A nyolc versenyző dolgozata közül véletlenszerűen kivesszünk egyet. Mennyi a valószínűsége annak, hogy 75%-osnál jobb teljesítményű dolgozat került a kezünkbe? (2 pont)

c) Egy tanuló betegség miatt nem tudott megjelenni a döntőn. Másnap megkapta, és megoldotta a feladatokat. Eredményét később összehasonlította a nyolc döntős versenyző eredményével. Észrevette, hogy az első feladatot a versenyzők I. feladatra kapott pontszámainak a mediánjára teljesítette (egészre kerekítve), a második feladatot pedig a nyolc versenyző II. feladata pontszámainak a számtani közepére (szintén egészre kerekítve). A III. feladatot 90%-ra teljesítette.

Mennyi lett ennek a tanulónak az összpontszáma? Ezzel hányadik helyen végzett volna? (5 pont)

8) Máté a tanév során 13 érdemjegyet kapott matematikából. Ezek időrendben: 4, 4, 3, 4, 4, 2, 5, 4, 3, 1, 3, 3, 2. Adja meg a jegyek móduszát és mediánját!

(2 pont)

- 9) Egy gimnáziumban 50 diák tanulja emelt szinten a biológiát. Közülük 30-an tizenegyedikesek és 20-an tizenkettedikesek. Egy felmérés alkalmával a tanulóktól azt kérdezték, hogy hetente átlagosan hány órát töltenek a biológia házi feladatok megoldásával. A táblázat a válaszok összesített eloszlását mutatja.

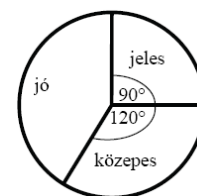
A biológia házi feladatok megoldásával hetente eltöltött órák száma*	0-2	2-4	4-6	6-8	8-10
Tanulók száma	3	11	17	15	4

\* A tartományokhoz az alsó határ hozzátartozik, a felső nem.

- a) Ábrázolja oszlopdiagramon a táblázat adatait! (3 pont)  
 b) Átlagosan hány órát tölt a biológia házi feladatok megoldásával hetente ez az 50 tanuló? Az egyes időintervallumok esetében a középértékekkel (1, 3, 5, 7 és 9 órával) számoljon! (3 pont)

Egy újságíró két tanulóval szeretne interjút készíteni. Ezért a biológiát emelt szinten tanuló 50 diák névsorából véletlenszerűen kiválaszt két nevet.

- c) Mennyi a valószínűsége annak, hogy az egyik kiválasztott tanuló tizenegyedikes, a másik pedig tizenkettedikes? (6 pont)  
 d) Mennyi a valószínűsége annak, hogy mindkét kiválasztott tanuló legalább 4 órát foglalkozik a biológia házi feladatok elkészítésével hetente? (5 pont)
- 10) Öt szám átlaga 7. Az öt szám közül négyet ismerünk, ezek az 1, a 8, a 9 és a 12. Határozza meg a hiányzó számot! Válaszát számítással indokolja! (3 pont)
- 11) Rozi irodalomból a tanév során a következő jegyeket kapta: 2; 4; 3; 5; 2; 4; 5; 3; 5. Mi lenne az év végi osztályzata, ha az a kapott jegyek mediánja lenne? (2 pont)
- 12) A kézilabdaedzéseken 16 tanuló vesz részt, átlagmagasságuk 172 cm. Mennyi a magasságaik összege? (2 pont)
- 13) Egy iskolában 120 tanuló érettségizett matematikából. Nem volt sem elégtelen, sem elégséges dolgozat. Az eredmények megoszlását az alábbi kördiagram szemlélteti. Hányan kaptak jeles, jó, illetve közepes osztályzatot? (3 pont)



- 14) Számítsa ki a 12 és 75 számok mértani közepét! (2 pont)
- 15) Egy 2000. január elsejei népesség-statisztika szerint a Magyarországon élők kor és nem szerinti megoszlása (ezer főre) kerekítve az alábbi volt:

Korcsoport (év)	Férfiak száma (ezer fő)	Nők száma (ezer fő)
0 - 19	1214	1158
20 - 39	1471	1422
40 - 59	1347	1458
60 - 79	685	1043
80 -	75	170

- a) Melyik korcsoport volt a legnépesebb? A táblázat adatai alapján adja meg, hogy hány férfi és hány nő élt Magyarországon 2000. január elsején? (3 pont)
- b) Ábrázolja egy közös oszlopdiagramon, két különböző jelölésű oszloppal a férfiak és a nők korcsoportok szerinti megoszlását! (5 pont)
- c) Számítsa ki a férfiak százalékos arányát a 20 évnél fiatalabbak korcsoportjában, valamint a legalább 80 évesek között! (4 pont)

- 16) Számítsa ki 25 és 121 számtani és mértani közepét! (2 pont)
- 17) Melyik az a legnagyobb szám az alábbi 12 szám közül, amelynek elhagyásával a megmaradt 11 szám mediánja 6?  
6; 4; 5; 5; 1; 10; 7; 6; 11; 2; 6; 5 (2 pont)

- 18) Az alábbi táblázat egy 7 fős csoport tagjainak cm-ben mért magasságait tartalmazza. Mekkora a csoport átlagmagassága? A csoport melyik tagjának a magassága van legközelebb az átlagmagassághoz?

Anna	Bea	Marci	Karcsi	Ede	Fanni	Gábor
155	158	168	170	170	174	183

(3 pont)

- 19) Egy 17 fős csoport matematika témazáró dolgozatának értékelésekor a tanár a következő információkat közölte:  
Mind a 17 dolgozatot az 1-es, a 2-es, a 3-as, a 4-es és az 5-ös jegyek valamelyikével osztályozta.

A jegyek mediánja 4, módusza 4, terjedelme 4 és az átlaga (két tizedes jegyre kerekítve) 3,41.

Döntse el, hogy az alábbi állítások közül melyik igaz, illetve hamis!

- a) A dolgozatoknak több mint a fele jobb hármasnál. (1 pont)
- b) Nincs hármasnál rosszabb dolgozat. (1 pont)

- 20) Számítsa ki azt a két pozitív számot, amelyek számtani (aritmetikai) közepe 8, mértani (geometria) közepe pedig 4,8. (12 pont)

- 21) Megkérdeztek 25 családot arról, hogy hány forintot költöttek az elmúlt hónapban friss gyümölcsre. A felmérés eredményét mutatja az alábbi táblázat:

3500	4500	5600	4000	6800
4000	3400	5600	6200	4500
500	5400	2500	2100	1500
9000	1200	3800	2800	4500
4000	3000	5000	3000	5000

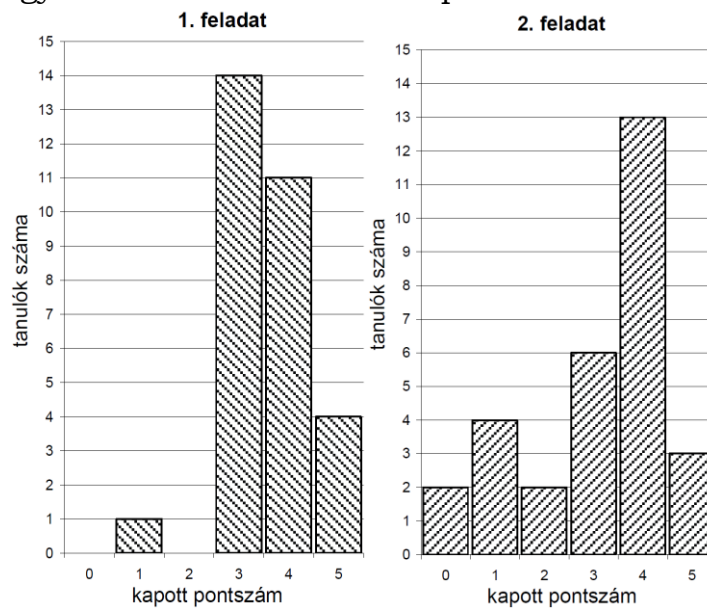
(Az adatokat tekintsük pontos értékeknek!)

- a) Hány forintot költöttek átlagosan ezek a családok friss gyümölcs vásárlására az elmúlt hónapban? (3 pont)
- b) Ossza 1000 Ft terjedelmű osztályokba a fenti értékeket, kezdve a 0-1000 Ft, 1001-2000 Ft stb. osztályokkal, és ábrázolja ezeknek az osztályoknak a gyakoriságát oszlopdiagramon! (5 pont)
- c) Az 500 Ft és a 9000 Ft kiugró értékek. (6 pont)
- Mennyi a megmaradt adatok átlaga, ha ezeket a kiugró értékeket elhagyjuk az adatok közül?  
Hány százalékos változást jelent ez az eredeti átlaghoz képest, és milyen irányú ez a változás?  
Mennyi az így keletkezett új adatsor terjedelme?

(Az átlagot forintra, a százaléklábat két tizedesjegyre kerekítve adja meg!)

- d) Az eredeti mintát a vizsgálatot végző cég két új család megfelelő adatával bővítette. Az egyik az eredeti átlagnál 1000 Ft-tal többet, a másik ugyanennyivel kevesebbet költött havonta friss gyümölcsre.  
Mutassa meg számítással, hogy így az átlag nem változott! (3 pont)

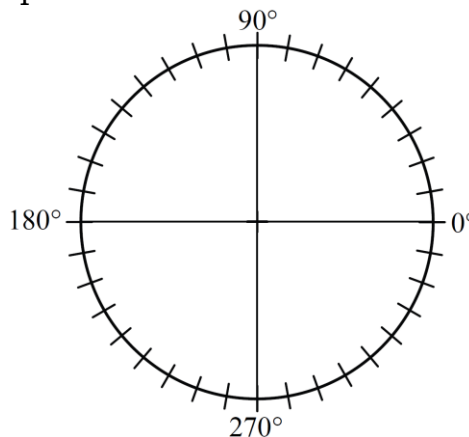
22) Egy iskolai tanulmányi verseny döntőjébe 30 diák jutott be, két feladatot kellett megoldaniuk. A verseny után a szervezők az alábbi oszlopdiagramokon ábrázolták az egyes feladatokban szerzett pontszámok eloszlását:



a) A diagramok alapján töltsse ki a táblázat üres mezőit! Az első feladatra kapott pontszámok átlagát két tizedes jegyre kerekítve adja meg! (3 pont)

	1. feladat	2. feladat
pontszámok átlaga		3,10
pontszámok mediánja		

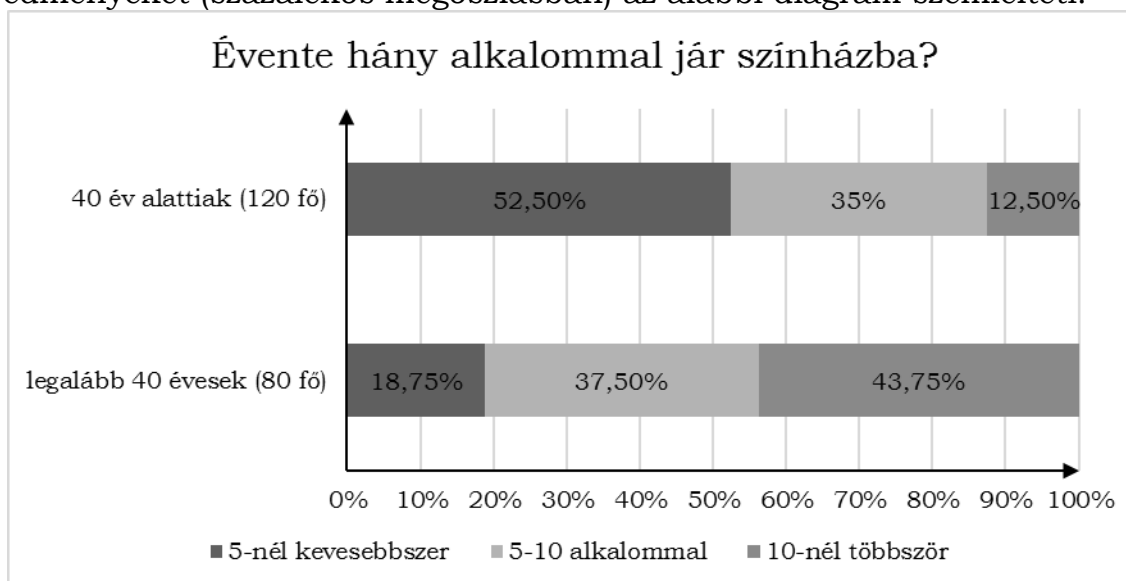
b) A megfelelő középponti szögek megadása után ábrázolja kördiagramon a 2. feladatra kapott pontszámok eloszlását! (4 pont)



c) A versenyen minden tanuló elért legalább 3 pontot. Legfeljebb hány olyan tanuló lehetett a versenyzők között, aki a két feladat megoldása során összesen pontosan 3 pontot szerzett? (5 pont)

23) Adja meg a 2; 11; 7; 3; 17; 5; 13 számok mediánját! (2 pont)

24) Egy felmérés során két korcsoportban összesen 200 embert kérdeztek meg arról, hogy évente hány alkalommal járnak színházba. Közülük 120-an 40 évesnél fiatalabbak, 80 válaszadó pedig 40 éves vagy annál idősebb volt. Az eredményeket (százalékos megoszlásban) az alábbi diagram szemlélteti.



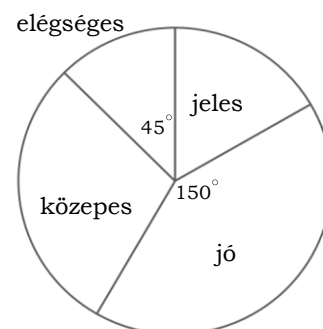
- a) Hány legalább 40 éves ember adta azt a választ, hogy 5-nél kevesebbszer volt színházban? (3 pont)
- b) A megkérdezettek hány százaléka jár évente legalább 5, de legfeljebb 10 alkalommal színházba? (4 pont)
- c) A 200 ember közül véletlenszerűen kiválasztunk kettőt. Mekkora a valószínűsége annak, hogy közülük legfeljebb az egyik fiatalabb 40 évesnél? (5 pont)
- Válaszát három tizedesjegyre kerekítve adja meg!

25) Az alábbi táblázat András és Bea érettségi érdemjegyeit mutatja.

	András	Bea	Cili
Magyar nyelv és irodalom	3	4	
Matematika	4	5	
Történelem	4	4	
Angol nyelv	3	5	
Fölrajz	5	5	

- a) Számítsa ki András jegyeinek átlagát és szórását! (3 pont)
- Cili érettségi eredményéről azt tudjuk, hogy jegyeinek átlaga András és Bea jegyeinek átlaga közé esik, továbbá Cili jegyeinek a szórása 0.
- b) Töltse ki a táblázatot Cili jegyeivel! (3 pont)
- Dávid is ebből az 5 tárgyból érettségizett, az 5 tárgy az ő bizonyítványában is a fenti sorrendben szerepel. Eredményeiről azt tudjuk, hogy jegyeinek mediánja 4, átlaga pedig 4,4 lett.
- c) Határozza meg Dávid osztályzatait és azt, hogy hányféleképpen lehetne ezekkel az osztályzatokkal kitölteni az érettségi bizonyítványát! (7 pont)

Az ábra a 24 fős osztály érettségi eredményeinek megoszlását mutatja matematikából. Tudjuk, hogy jeles osztályzatot 4 tanuló ért el.



- d) Az osztály tanulói közül hányan érettségiztek közepes eredménnyel matematikából? (4 pont)

26) Egy teherautóval több zöldségboltba almát

szállítottak. Az egyik üzletbe 60 kg jonatánt, 135 kg starkingot, 150 kg idaredet és 195 kg golden almát vittek. A jonatán és az idared alma kilóját egyaránt 120 Ft-ért, a starking és a golden kilóját 85 Ft-ért árulta a zöldséges.

a) Hány százalékkal volt drágább a jonatán alma kilója a goldenéhez képest? (2 pont)

b) Mennyi bevételhez jutott a zöldséges, ha a teljes mennyiséget eladta? (2 pont)

c) A zöldségeshez kiszállított árukészlet alapján számítsa ki, hogy átlagosan mennyibe került nála 1 kg alma! (3 pont)

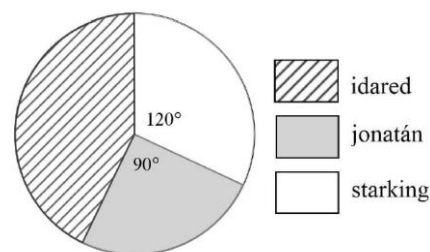
d) Ábrázolja kördiagramon a zöldségeshez érkezett alma mennyiségének fajták szerinti megoszlását! (6 pont)

A jonatán alma mérete kisebb, mint az idaredé, így abból átlagosan 25%-kal több darab fér egy ládába, mint az idaredből. Rakodásnál mindkét fajtából kiborult egy-egy tele láda alma, és tartalmuk összekeveredett.

e) A kiborult almákból véletlenszerűen kiválasztva egyet, mekkora a valószínűsége annak, hogy az jonatán lesz? (4 pont)

27) Egy gyümölcsáros háromféle almát kínál a piacon. A teljes készletről kördiagramot készítettünk.

Írja a táblázat megfelelő mezőibe a hiányzó adatokat! (3 pont)



Alma fajtája	A körcikk középponti szöge (fok)	Mennyiség (kg)
jonatán	90	
idared		
starking	120	48

28) Egy végzős osztály diákjai projektmunka keretében különböző statisztikai felméréseket készítettek az iskola tanulóinak körében.

a) Éva 150 diákot kérdezett meg otthonuk felszereltségéről. Felméréséből kiderült, hogy a megkérdezettek közül kétszer annyian rendelkeznek mikrohullámú sütővel, mint mosogatógéppel. Azt is megtudta, hogy 63-an mindkét géppel, 9-en egyik géppel sem rendelkeznek. A megkérdezettek hány százalékának nincs otthon mikrohullámú sütője? (6 pont)

b) Jóska a saját felmérésében 200 diákot kérdezett meg arról, hogy hány számítógépük van a háztartásban. A válaszokat a következő táblázatban összesítette:

A számítógépek száma a háztartásban	Gyakoriság
0	3
1	94
2	89
3	14

Jóska felmérése alapján töltsé ki az alábbi táblázatot az egy háztartásban található számítógépek számáról! (4 pont)

A számítógépek számának átlaga	
A számítógépek számának mediánja	
A számítógépek számának módusza	

- c) Tamás a saját felmérése alapján a következőt állítja:  
*Minden háztartásban van televízió.*  
 Az alábbi négy állítás közül válassza ki azt a kettőt, amely Tamás állításának tagadása!  
 A) Semelyik háztartásban nincs televízió.  
 B) Van olyan háztartás, ahol van televízió.  
 C) Van olyan háztartás, ahol nincs televízió.  
 D) Nem minden háztartásban van televízió. (2 pont)

- 29) Kóstolóval egybekötött termékbemutatót tartottak egy új kávékeverék piaci megjelenését megelőzően. Két csoport véleményét kérték úgy, hogy a terméket az 1-től 10-ig terjedő skálán mindenkinek egy-egy egész számmal kellett értékelnie. Mindkét csoport létszáma 20 fő volt. A csoportok értékelése az alábbi táblázatban látható.

pontszám	1	2	3	4	5	6	7	8	9	10
gyakoriság az 1. csoportban	0	0	1	0	6	8	2	2	1	0
gyakoriság a 2. csoportban	0	8	0	2	0	1	0	0	0	9

- a) Ábrázolja közös oszlopdiagramon, különböző jelölésű oszlopokkal a két csoport pontszámait! A diagramok alapján fogalmazzon meg véleményt arra vonatkozóan, hogy melyik csoportban volt nagyobb a pontszámok szórása! Véleményét a diagramok alapján indokolja is! (5 pont)  
 b) Hasonlítsa össze a két csoport pontszámainak szórását számítások segítségével is! (5 pont)

Kétféle kávéból 14 kg 4600 Ft/kg egységárú kávékeveréket állítanak elő. Az olcsóbb kávéfajta egységára 4500 Ft/kg, a drágábbé pedig 5000 Ft/kg.

- c) Hány kilogramm szükséges az egyik, illetve a másik fajta kávéból? (7 pont)

- 30) Egy kis cégnél nyolcan dolgoznak: hat beosztott és két főnök. A főnökök átlagos havi jövedelme 190 000 Ft, a beosztottaké 150 000 Ft.  
 Hány forint a cég nyolc dolgozójának átlagos havi jövedelme? (2 pont)

- 31) Réka év végi bizonyítványában a következő osztályzatok szerepelnek: 4; 2; 3; 5; 5; 4; 5; 5; 4. Adja meg Réka osztályzatainak móduszát és mediánját! (2 pont)

- 32) Az egyik világbajnokságon részt vevő magyar női vízilabdacsapat 13 tagjának életkor szerinti megoszlását mutatja az alábbi táblázat.

Életkor	17	18	19	21	22	23	24	25	26	31
Gyakoriság	2	1	1	1	2	1	2	1	1	1

- a) Számítsa ki a csapat átlagéletkorát! (2 pont)  
 Jelölje A azt az eseményt, hogy a csapatból 7 játékost véletlenszerűen kiválasztva, a kiválasztottak között legfeljebb egy olyan van, aki 20 évnél fiatalabb.  
 b) Számítsa ki az A esemény valószínűségét! (8 pont)  
 c) A világbajnokság egyik mérkőzésén a magyar kezdőcsapat 6 mezőnyjátékosáról a következőket tudjuk:
- a legidősebb és a legfiatalabb játékos életkorának különbsége 12 év,
  - a játékosok életkorának egyetlen módusza 22 év,
  - a hat játékos életkorának mediánja 23 év,
  - a hat játékos életkorának átlaga 24 év.

Adja meg a kezdőcsapat hat mezőnyjátékosának életkorát! (7 pont)



33) Egy közvélemény-kutató intézet azt a feladatot kapta, hogy két alkalommal – fél év különbséggel – mérje fel a TV-ben látható három filmsorozat nézettségi adatait. Az ábrán látható kérdőíven a válaszoló vagy azt jelölhette be, hogy az A, B, és C sorozatok közül melyiket nézi (akár többet is meg lehetett jelölni), vagy azt, hogy egyiket sem nézi. Az első felméréskor kapott 600 kérdőív jelöléseit összesítve megállapították, hogy az A sorozat összesen 90 jelölést kapott, a B sorozat összesen 290-et, a C sorozat pedig összesen 230-at. Érdekes módon olyan válaszadó nem volt, aki pontosan két sorozatot nézett volna, viszont 55-en mindhárom sorozatot bejelölték.

Tegyen X-et a megfelelő mezőbe!

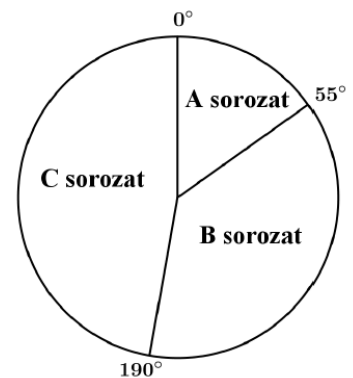
- Nézem az **A** sorozatot.
- Nézem a **B** sorozatot.
- Nézem a **C** sorozatot.
- Egyik sorozatot sem nézem.

Ha az utolsó mezőbe X-et tett, akkor a másik három mezőt hagyja üresen!

a) A válaszolók hány százaléka nézte az A sorozatot? (2 pont)

b) Hány válaszoló nem nézte egyik sorozatot sem? (5 pont)

A második felmérés során kiválogatták azokat a kérdőíveket, amelyeken valamelyik sorozat meg volt jelölve. Ezekben a három sorozat nézettségére összesen 576 jelölés érkezett. Az adatok feldolgozói minden jelölést megszámoztak, és a végeredményről az itt látható kördiagramot készítették.



c) Számítsa ki, hogy az egyes sorozatok nézettségére hány jelölés érkezett! (5 pont)

34) Egy focicsapat 11 játékosa megérkezik az edzésre, néhányan kezdet fognak egymással. (Két játékos között legfeljebb egy kézfogás történik.) Az edző felírta, hogy ki hányszor fogott kezdet, és a következő számokat kapta: 0; 1; 2; 2; 2; 5; 0; 0; 4; 4; 2.

a) Ábrázolja a kézfogásoknak egy lehetséges gráfját, ahol a pontok a játékosokat jelölik, és két pont között akkor van él, ha az illetők kezdet fogtak az edzés előtt! (3 pont)

b) Hány kézfogás történt összesen? (2 pont)

Egy másik alkalommal az edző által feljegyzett 11 nemnegatív egész számról a következőket állapítottuk meg: a számok egyetlen módusza 2, mediánja 3, átlaga 4, terjedelme pedig 5 volt.

c) Adjon meg a fenti feltételeknek megfelelő 11 nemnegatív egész számot! (5 pont)

Az edzésen a játékosok a tizenegyesrúgást gyakorolják. Az egyik játékos 0,9 valószínűséggel lövi be a tizenegyest.

d) Mennyi a valószínűsége annak, hogy három rúgásból legalább egyszer betalál? A valószínűség pontos értékét adja meg! (7 pont)

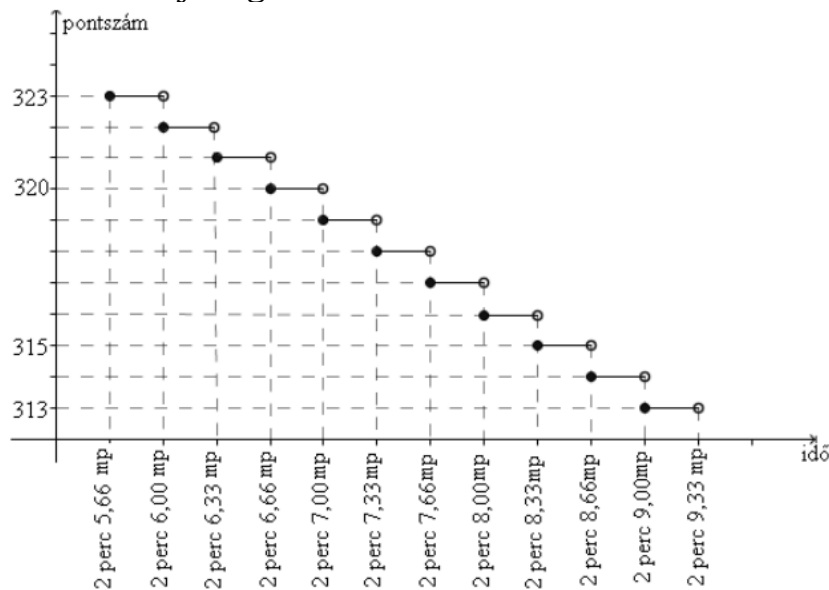
35) Egy mérőállomáson az egyik év júliusának tizenhárom egymást követő napján az alábbi csapadékértékeket mérték (milliméterben): 2; 26; 8; 1; 21; 10; 22; 49; 5; 25; 9. Adja meg az adatsor terjedelmét és mediánját! (3 pont)

- 36) Egy webáruházba való belépés előzetes regisztrációhoz kötött, melynek során a regisztráló életkorát is meg kell adnia. Az adatok alapján a 25560 regisztráló közül 28 évesnél fiatalabb 7810 fő, 55 évesnél idősebb 4615 fő, a többiek 28 és 55 év közöttiek.
- a) Készítsen a létszámadatok alapján kördiagramot, kiszámítva a három körcikkhez tartozó középponti szögeket is! (5 pont)
- A webáruház üzemeltetői a vásárlói szokásokat szeretnék elemezni, ezért a regisztráltak közül véletlenszerűen kiválasztanak két személyt.
- b) Adja meg annak a valószínűségét, hogy az egyik kiválasztott személy 28 évesnél fiatalabb, a másik 55 évesnél idősebb! (4 pont)
- A regisztráltak egy része vásárol is a webáruházban. A vásárlók között a 28 év alattiak éppen kétszer annyian vannak, mint az 55 évesnél idősebbek. A 28 év alattiak az elmúlt időszakban összesen 19 325 700 Ft, az 55 év felettiak 17 543 550 Ft értékben vásároltak. Az 55 év felettiak átlagosan 2410 Ft-tal költöttek többet, mint a 28 év alattiak.
- c) Számítsa ki, hány 55 év feletti vásárlója volt a webáruháznak, és adja meg, hogy ezek a vásárlók átlagosan mennyit költöttek! (8 pont)
- 37) Határozza meg az alábbi adatsor terjedelmét, átlagát és szórását!  
 1;1;1;1;3;3;3;5;5;7 (4 pont)
- 38) Egy számtani sorozat három egymást követő tagja ebben a sorrendben 32;  $a$  és 18.
- a) Határozza meg az  $a$  értékét és a sorozat differenciáját! (3 pont)
- Egy mértani sorozat három egymást követő tagja ebben a sorrendben 32;  $b$  és 18.
- b) Határozza meg a  $b$  értékét és a sorozat hányadosát! (5 pont)
- A 32;  $c$  és 18 számokról tudjuk, hogy a három szám átlaga kettővel kisebb, mint a mediánja, továbbá  $32 > c > 18$ .
- c) Határozza meg a  $c$  értékét! (5 pont)

39) Egy öttusaversenyen 31 résztvevő indult. A vívás az első szám, ahol mindenkiel egyszer mérkőzik meg. Aki 21 győzelmet arat, az 250 pontot kap. Aki ennél több győzelmet arat, az minden egyes további győzelemért 7 pontot kap a 250 ponton felül. Aki ennél kevesebbszer győz, attól annyiszor vonnak le 7 pontot a 250-ből, ahány győzelem hiányzik a 21-hez. (A mérkőzések nem végződhetnek döntetlenre.)

- a) Hány pontot kapott a vívás során Péter, akinek 5 veresége volt? (3 pont)  
 b) Hány győzelme volt Bencének, aki 215 pontot szerzett? (3 pont)

Az öttusa úszás számában 200 métert kell úszni. Az elért időeredményeként járó pontszámot mutatja a grafikon.



- c) Jelölje meg az alábbi két kérdés esetén a helyes választ!  
 Hány pontot kapott Robi, akinek az időeredménye 2 perc 6,28 másodperc? (2 pont)

- A: 320  
 B: 321  
 C: 322  
 D: 323

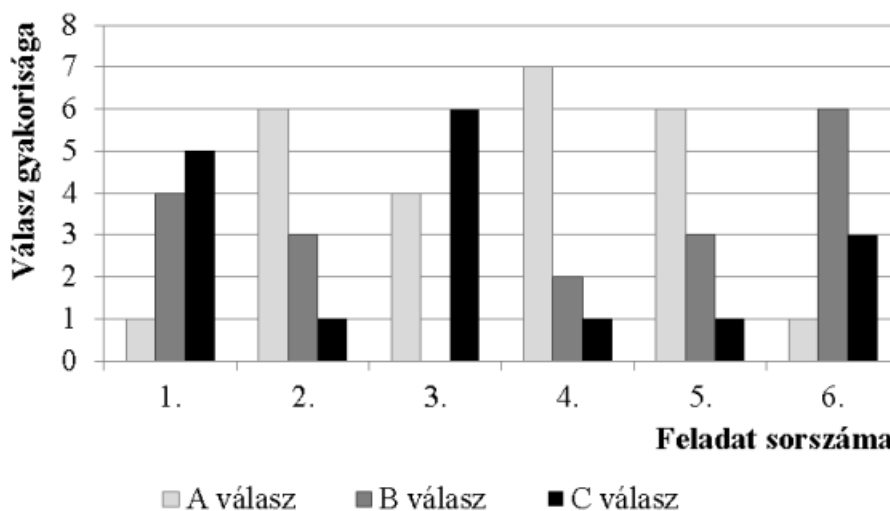
Péter 317 pontot kapott. Az alábbiak közül válassza ki Péter időeredményét!

- A: 2 perc 7,00 mp  
 B: 2 perc 7,60 mp  
 C: 2 perc 7,80 mp  
 D: 2 perc 8,00 mp

Az öttusa lovaglás számában egy akadálypályán tizenkét különböző akadályt kell a versenyzőnek átugrania. Egy akadály a nehézsége alapján három csoportba sorolható: A, B vagy C típusú. Ádám a verseny előtti bemelegítéskor először az öt darab A, majd a négy darab B, végül a három darab C típusú akadályokon ugrat át, mindegyiken pontosan egyszer. Bemelegítéskor az egyes akadálytípusokon belül a sorrend szabadon megválasztható.

- d) Számítsa ki, hogy a bemelegítés során hányféle sorrendben ugrathatja át Ádám a tizenkét akadályt! (4 pont)

- 40) Egy hat kérdéses tesztben minden kérdésnél a megadott három lehetőség (A, B és C) közül kellett választani a helyes választ. A tesztet tíz diák írta meg. Az alábbi diagram az egyes feladatokra adott választok eloszlását mutatja.



A teszt értékelésekor minden helyes válaszra 1 pont, helytelen válaszra pedig 0 pont jár. Tudjuk, hogy a tíz diák összesen 35 pontot szerzett.

- a) Határozza meg az összes jó és az összes rossz válasz számát, és készítsen ezekről kördiagramot! (4 pont)
- b) Igaz-e, hogy minden kérdésre az a jó válasz, amit a legtöbbben jelöltek be? Válaszát indokolja! (3 pont)

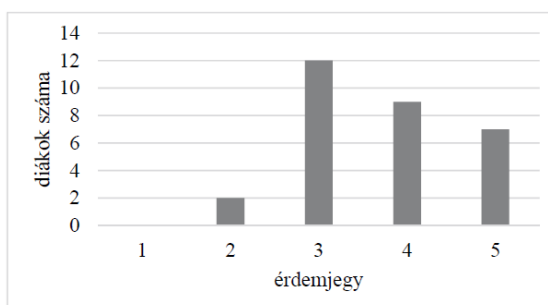
Éva, János és Nóra is megírták ezt a tesztet. Egyetlen olyan kérdés volt, amelyre mindhárman jól válaszoltak. Három olyan kérdés volt, amit Éva és János is jól válaszolt meg, kettő olyan, amire János és Nóra is, és egy olyan, amire Nóra és Éva is jó választ adott. Két olyan kérdés volt, amelyet csak egyvalaki oldott meg helyesen hármuk közül.

- c) Hány pontot szereztek ők hárman összesen ezen a teszten? (5 pont)  
Az egyik diák nem készült fel a tesztre, válaszait tippelve, véletlenszerűen adja meg.
- d) Mekkora valószínűséggel lesz legalább egy jó válasza a tesztben? (5 pont)

- 41) A 8-nak és egy másik pozitív számnak a mértani közepe 12. Melyik ez a másik szám? (2 pont)

- 42) Egy adathalmazban öt adat van: 0; 1; 2; 3; 4. Számítsa ki az adathalmaz szórását! (2 pont)

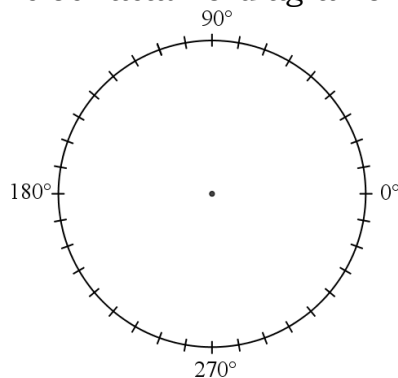
- 43) Egy 30 fős osztály matematikaérettségi vizsgájának érdemjegyei olvashatók le az alábbi diagramról.



- a) Adja meg az osztály matematikaérettségi érdemjegyeinek átlagát, mediánját és móduszát! (4 pont)

b) Ábrázolja az érdemjegyek eloszlását kördiagramon!

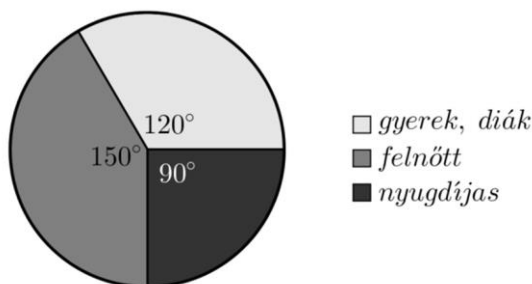
(4 pont)



Az osztály tanulóinak matematikaérettségi dolgozatai közül az érettségi elnök véletlenszerűen kiválaszt és megvizsgál kettőt.

c) Számítsa ki annak a valószínűségét, hogy mindkét kiválasztott dolgozat érdemjegye hármas! Válaszát három tizedesjegyre kerekítve adja meg!  
(4 pont)

44) Az alábbi kördiagramm egy balatoni strandon a júliusban megvásárolt belépőjegyek típusának eloszlását mutatja.



Júliusban összesen 16416 fő vásárolt belépőjegyet. A belépőjegyek árát az alábbi táblázat tartalmazza.

<i>gyerek, diák</i>	350 Ft/fő
<i>felnőtt</i>	700 Ft/fő
<i>nyugdíjas</i>	400 Ft/fő

a) Mennyi volt a strand bevétele a júliusban eladott belépőkből? (5 pont)

A tapasztalatok szerint júliusban folyamatosan nő a strandolók száma. Ezért a strandbüfében rendszer, hogy július 1-jei megrendelést követően július 2-től kezdve július 31-ig minden nap ugyanannyi literrel növelik a nagykereskedésből megrendelt üdítő mennyiségét. A könyvelésből kiderült, hogy július 1-jén, 2-án és 3-án összesen 165 litert, július 15-én pedig 198 litert rendeltek.

b) Hány liter üdítőt rendeltek júliusban összesen? (7 pont)

45) Egy 20 fős társaság tagjait az április havi szabadidős tevékenységeikről kérdezték. Mindenki három eldöntendő kérdésre válaszolt (igennel vagy nemmel).

I. Volt-e moziban?

II. Olvasott-e szépirodalmi könyvet?

III. Volt-e koncerten?

A válaszokból kiderült, hogy tizenketten voltak moziban, kilencen olvastak szépirodalmi könyvet, és négy fő járt koncerten. Öten voltak, akik moziban jártak és szépirodalmi könyvet is olvastak, négyen pedig moziban és koncerten is jártak. Hárman mindhárom kérdésre igennel válaszoltak.

a) Hány olyan tagja van a társaságnak, aki mindhárom kérdésre nemmel válaszolt? (6 pont)

A társaság 20 tagja közül véletlenszerűen kiválasztunk kettőt.

b) Számítsa ki annak a valószínűségét, hogy legalább egyikük volt moziban április folyamán! (5 pont)

Attól a kilenc személytől, akik olvastak áprilisban szépirodalmi könyvet, azt is megkérdezték, hogy hány könyvet olvastak el a hónapban. A válaszok (pozitív egész számok) elemzése után kiderült, hogy a kilenc szám (egyetlen) módusza

1, mediánja 2, átlaga  $\frac{16}{9}$ , terjedelme pedig 2.

c) Adja meg ezt a kilenc számot! (6 pont)